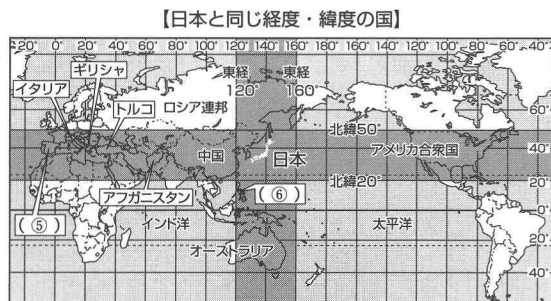


地理編 10 日本のすがた

▼(①)～(⑳)にあてはまる語句を、下の.....の中から選びなさい。

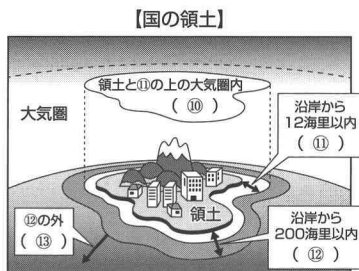
ポイント 1 日本の位置と領域

(1) 日本は(①)大陸の東に位置し、東アジアに属する。ヨーロッパから見ると、「(②)」と呼ばれる地域にあたる。経度・緯度



では、ほぼ(③)20度～46度、(④)123度～154度の間に位置する。

(2) 日本の国土面積は、約(⑦)km²。日本列島の全長は約(⑧)kmで、(⑨)・北海道・四国・九州の大きな四島と、小さな島々からなる。



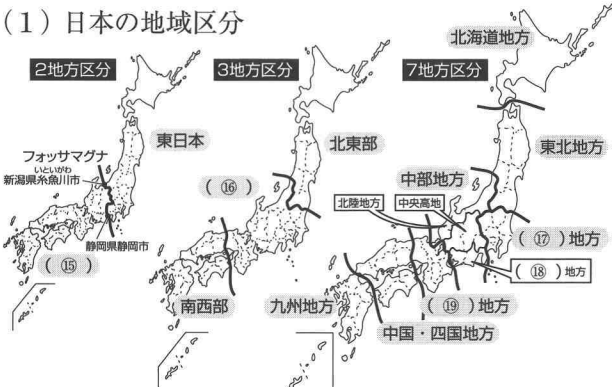
※ 12海里=約22km, 200海里=約370km

(3) 沿岸(海岸線)から200海里以内の⑫では、水産資源や鉱産資源は沿岸国のものである。

(4) 日本の東端は南鳥島、西端は与那国島、南端は(⑭)、北端は択捉島(←北方領土問題が未解決)。

ポイント 2 日本の地域区分と都道府県

(1) 日本の地域区分



よこはま、経済水域、ユーラシア、香川県、おきのとりしま、沖ノ鳥島、北緯、鳥取県、極東、領空、北海道、とうかい、まっほろ、東経、神戸市、西日本、近畿、領海、東京都、公海、43、名古屋、フィリピン、スペイン、関東、3000、38万

(2) 日本は、1都1道2府(⑳)県で構成されている。

- 【面積の大きい都道府県】 1位…(㉑), 2位…岩手県, 3位…福島県
- 【面積の小さい都道府県】 1位…(㉒), 2位…大阪府, 3位…東京都
- 【人口の多い都道府県】 1位…(㉓), 2位…神奈川県, 3位…大阪府
- 【人口の少ない都道府県】 1位…(㉔), 2位…島根県, 3位…高知県
- 【内陸県】 栃木県, 群馬県, 埼玉県, 山梨県, 長野県, 岐阜県, 滋賀県, 奈良県

【道県名と異なる道県庁所在地名】
 北海道(㉕)、岩手県(盛岡市)、宮城県(仙台市)、茨城県(水戸市)、
 栃木県(宇都宮市)、群馬県(前橋市)、埼玉県(さいたま市)、神奈川県(横浜)、
 山梨県(甲府市)、石川県(金沢市)、愛知県(名古屋)、三重県(津市)、
 滋賀県(大津市)、兵庫県(神戸市)、島根県(松江市)、香川県(高松市)、
 愛媛県(松山市)、沖縄県(那覇市)

資料から考えよう

■ 次の資料を見て、海岸線が長い理由として間違っていると考えられるものを、あとのア～エの中から一つ選び、記号で答えなさい。

【海岸線が長い道県】

島の数	0	10	20	30	40	50 (km)	
508	[Bar chart]					北海道	43.8
971	[Bar chart]					長崎	41.4
605	[Bar chart]					鹿児島	27.2
363	[Bar chart]					沖縄	16.5
270	[Bar chart]					愛媛	15.3

ア 面積が広い イ 海岸線が複雑である
 ウ 島が多い エ 隣接している県が多い

よく出る ①

次の条件すべてにあてはまる都道府県を、あとのア～エの中から一つ選び、記号で答えなさい。

【条件】

- ・中部地方にある。
- ・日本海に面している。
- ・都道府県名と都道府県庁所在地名が異なる。

ア

イ

ウ

エ

(縮尺は同じではない)
(—— は海岸線, は県境を示す)

解答欄 間違えた問題は、できるようになるまで何回でも復習しよう。 正答数 / 30

ポイント 1	①	②	③	④	⑤	⑥	⑦
	⑧	⑨	⑩	⑪	⑫	⑬	⑭
ポイント 2	⑮	⑯	⑰	⑱	⑳	㉑	㉒
	㉓	㉔	㉕	㉖	㉗	㉘	㉙

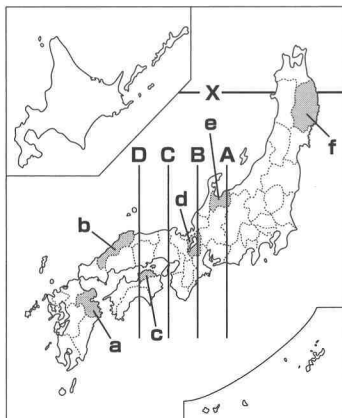
資料から考えよう よく出る ①

入試実戦問題

① 下の地図を見て、次の問いに答えなさい。

(1) 地図中Xの線が示している緯線を、次のア～エの中から一つ選び、記号で答えなさい。(山形)

- ア 北緯30度の緯線
- イ 北緯35度の緯線
- ウ 北緯40度の緯線
- エ 北緯45度の緯線

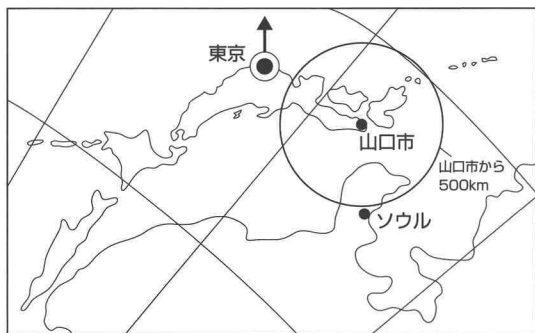


(2) 日本の標準時子午線を、地図中のA～Dの中から一つ選び、記号で答えなさい。(長野)

(3) 地図中のa～fの六つの県のうち、県名と県庁のある市の名称が同じ県が二つあります。その二つの県がそれぞれ含まれる地方の組み合わせとして正しいものを、次のア～エの中から一つ選び、記号で答えなさい。(神奈川)

- ア 九州地方、中部地方
- イ 近畿地方、中国・四国地方
- ウ 東北地方、九州地方
- エ 中部地方、中国・四国地方

② 次の地図を見て、あとの問いに答えなさい。



(注) 経緯線は15度間隔で引いてある。一部の島などは省略している。

(1) 地図中の矢印↑が指している方位を、次のア～オの中から一つ選び、記号で答えなさい。(福島)

- ア 北西 イ 北東 ウ 北
- エ 南西 オ 南東

(2) 山口市からの距離が、ソウルまでの距離とほぼ同じである県庁所在地を、次のア～エの中から一つ選び、記号で答えなさい。(山口)

- ア 前橋市 イ 大津市
- ウ 金沢市 エ 甲府市

③ 次の文中のAにあてはまる語句を漢字二字で答えなさい。また、Bにはあてはまる数字を答えなさい。(岡山)

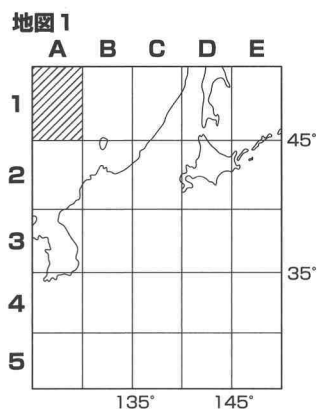
国家の領域は、領土・A・領空からなり、Aは国際法で海岸線から12海里を超えない範囲と定められている。さらにその外側に、海岸線からB海里までの経済水域(排他的経済水域)の設定が認められている。

A B

発展

④ 右の地図や表を見て、次の問いに答えなさい。(鳥取)

(1) 日本列島の一部しか描かれていない地図1の中で、鳥取県はどこに位置しますか。記号(A～E)と数字(1～5)を用い、例えば地図1中の に位置する場合は、「A1」というように答えなさい。



※地図中の直線は経線・緯線を示しています。

(2) 右の表は、全国を七つの地方に区分した各地方の面積と人口密度を、面積の広い順に並べたものです。このうちウにあてはまる地方を、地図2中のA～Gより一つ選び、記号で答えなさい。

	面積 (km ²)	人口密度 (人/km ²)
北海道地方	83,457	70
東北地方	66,952	139
中部地方	66,801	325
ア	50,729	227
イ	44,467	328
ウ	33,120	687
エ	32,425	1,314

(2011年) (2012/13「日本国勢協会」)

地図2

